

**CONCURSUL ȘCOLAR DE GEOGRAFIE,  
ETAPA LOCALĂ/ZONALĂ INEU  
02 FEBRUARIE 2013, CLASA a X-a**

**Timp efectiv de lucru 3 ore.**

**Se acordă 10 puncte din oficiu**

**I.**

**a.** Problemă: la sfârșitul anului 2006, populația României avea un număr de 21 568 524 locuitori. În anul 2007 s-au născut un număr de 213 600 copii și au decedat un număr de 252 100 locuitori. Calculați:

**1** – numărul populației României la sfârșitul anului 2007;

**2** – rata natalității în anul 2007, în promile;

**3** – rata mortalității în anul 2007, în promile;

**4** – rata bilanțului natural în anul 2007, în promile.

**b.** Dintre statele enumerate: Andorra, Bosnia-Herțegovina, Cuba, Elveția, Filipine, Italia, Japonia, Kazahstan, Mauritania, Mexic, Mongolia, Nepal, Niger, Olanda, Thailanda, Togo, Turcia, Uganda;

Selectați:

a) trei state cu configurația teritoriului alungită pe direcția N-S;

b) trei state federale;

c) trei state cu relief predominant muntos;

d) trei state insulare.

**16 puncte**

**II.**

**a.** Scrieți cinci orașe-capitală situate la o altitudine a reliefului de peste 2000 m;

**b.** Precizați, pentru fiecare oraș-capitală menționat la punctul **a.**, statul căruia îi aparține;

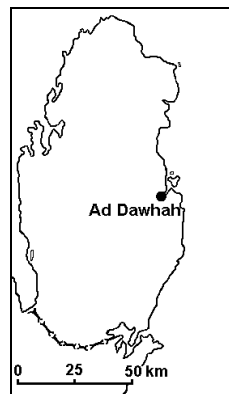
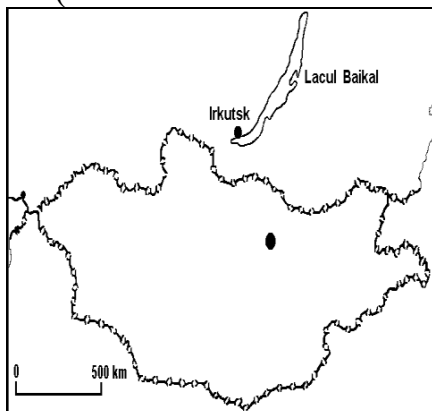
**c.** Explicați situarea lor la altitudinea respectivă.

**14 puncte**

**III.** Explicați faptul că relieful, prin caracteristicile sale, poate determina repartiția populației pe suprafața Terrei, prezentând trei exemple de state în acest sens.

**12 puncte**

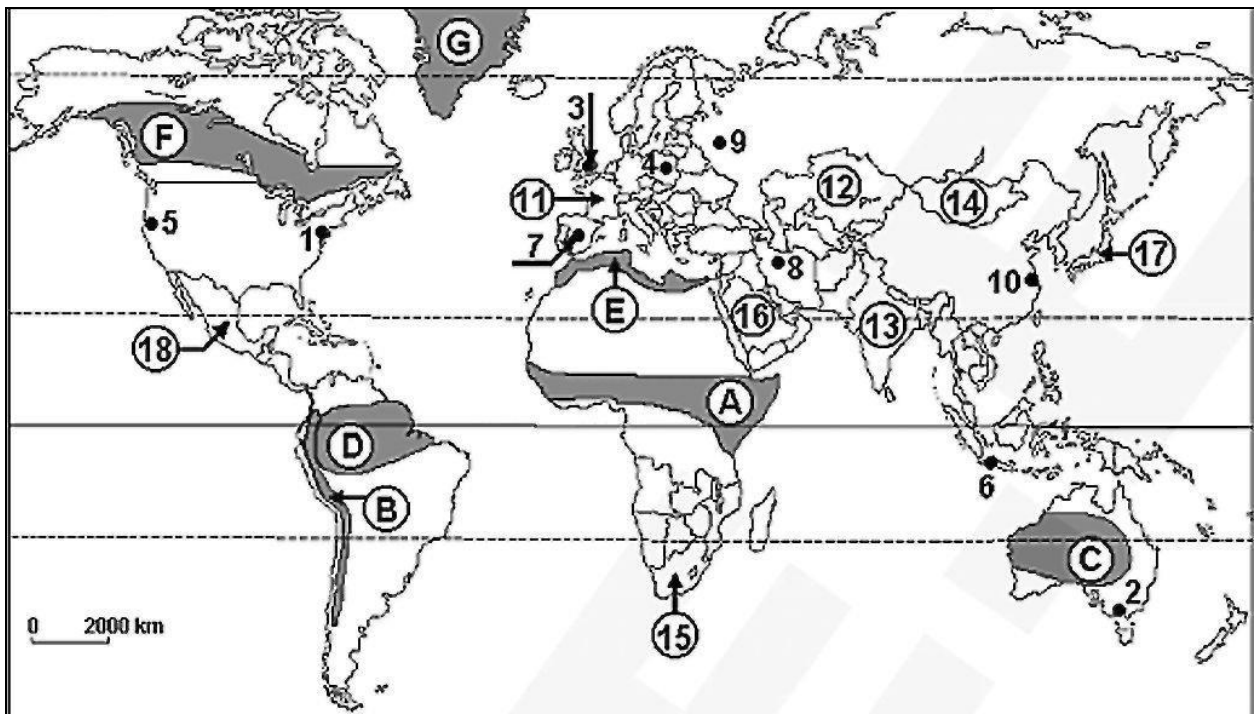
**IV.** Desenele de mai jos reprezintă conturul a două teritorii de stat. Precizați, pentru fiecare din cele două teritorii de stat: denumirea oficială, poziția geografică, forma, vecinii, tipul de frontieră, forma de guvernământ, orașul cu funcția de capitală de stat, forma de relief dominantă (forme de relief dominante), structura de stat.



**9 puncte**

V. Pe harta de mai jos sunt marcate state și orașe. Scrieți pe foaia de concurs:

- denumirile corespunzătoare orașelor marcate, pe hartă, cu numerele 1, 2, 3, 4, 5, 6, 7, 8, 9 și 10;
- denumirile statelor marcate, pe hartă, cu numere 11, 12, 13, 14, 15, 16, 17 și 18;
- orașele cu funcție de capitală de stat ce aparțin statelor marcate, pe hartă, cu numere de 11, 12, 13, 14, 15, 16, 17 și 18;
- limba oficială vorbită în statele marcate, pe hartă, cu numerele 15, 16 și 18.



39 puncte