

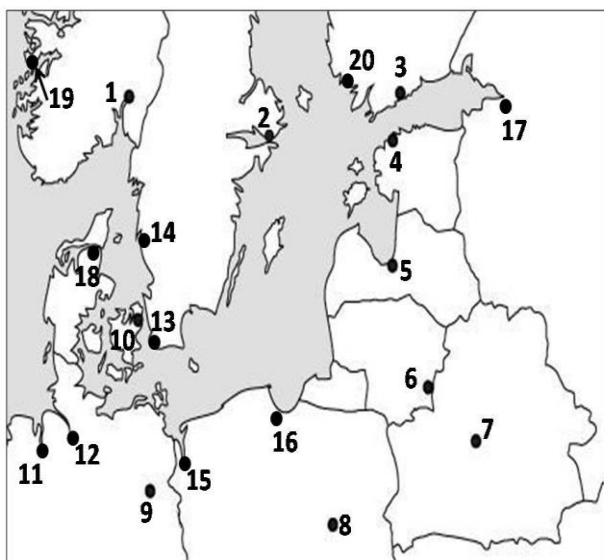
OLIMPIADA DE GEOGRAFIE
ETAPA LOCALĂ – 16 FEBRUARIE 2013, CLASA a X - a
PROBA TEORETICĂ SCRISĂ

- Toate subiectele sunt obligatorii. Se acordă 10 puncte din oficiu.
- Timpul efectiv de lucru este de 3 ore.

SUBIECTUL I

30 puncte

1. Aveți în vedere harta alăturată.



Precizați:

- a) numele orașelor marcate, pe hartă, cu numere de la 1 la 20;
- b) numele statelor a căror capitale sunt orașe marcate pe hartă;
- c) forma de guvernământ pentru statele ale căror capitală sunt orașele marcate, pe hartă, cu numerele 1, 3, 6, 9 și 10;
- d) două cauze care determină valoarea scăzută a densității medii a populației ($15,5 \text{ loc/km}^2$ est. în 2012) în statul a cărui capitală este orașul marcat, pe hartă, cu numărul 3;
- e) familia lingvistică din care face parte limba vorbită în capitalele marcate, pe hartă, cu numerele 1, 4 și 7;

prof. Adriana Mioara Dincă, Liceul de Artă Sibiu

SUBIECTUL II

14 puncte

Precizați și explicați valorile foarte mici ale densității populației statului Australia (explicațiile pot face referire la: suprafața statului, valori medii ale densității populației, regiuni cu valori minime și maxime, cauze ale repartiției inegale a populației Australiei).

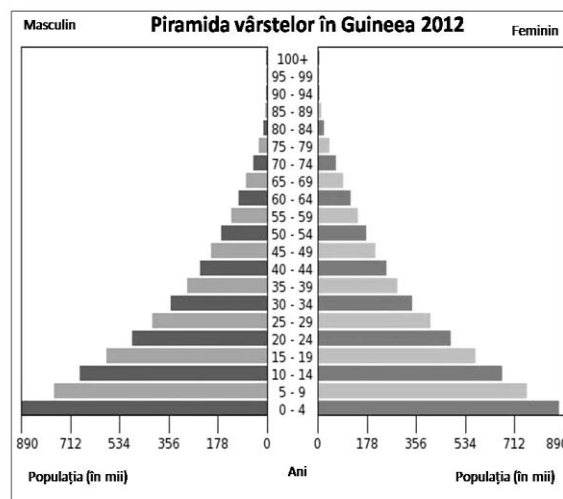
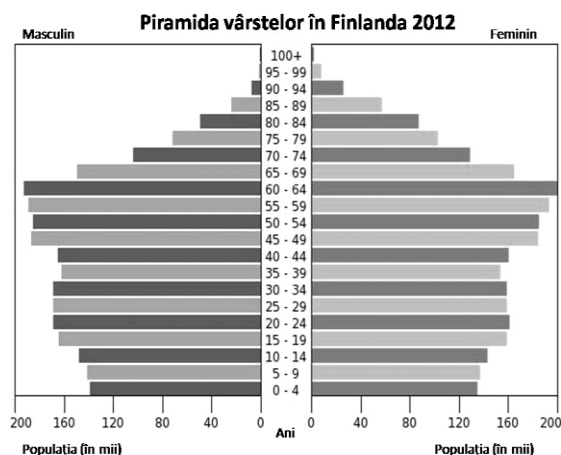
prof. Ioan Sas, Liceul Tehnologic "S.N.G." Mediaș

SUBIECTUL III

18 puncte

a. Structura profesională a populației: definiție, ponderea grupelor profesionale pe tipuri de țări, cauze și exemple.

b. Interpretați piramidele grupelor de vârstă reprezentate grafic mai jos precizând: caracteristicile generale (vârf, flancuri, bază, formă) și caracteristicile grupelor de vârstă ce reprezintă populația tânără și populația vârstnică.



SUBIECTUL IV

15 puncte

Pe harta alăturată este reprezentat un megalopolis american.

Precizați:

- numele megalopolisului și numele statului în care se află situat;
- numele orașelor marcate cu cifrele 1, 2, 3, 4 și 5;
- trei factori favorizanți pentru dezvoltarea urbană a regiunii;

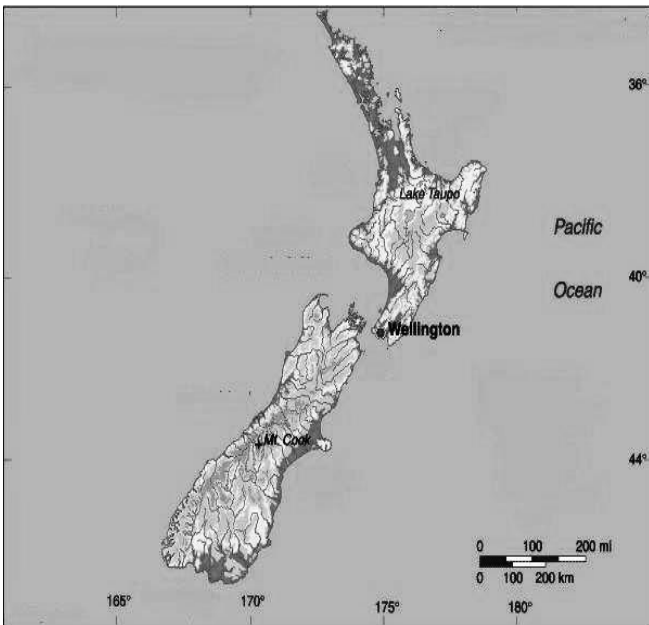
prof. Constantin Dincă – Liceul Teoretic “O. Ghibu” Sibiu



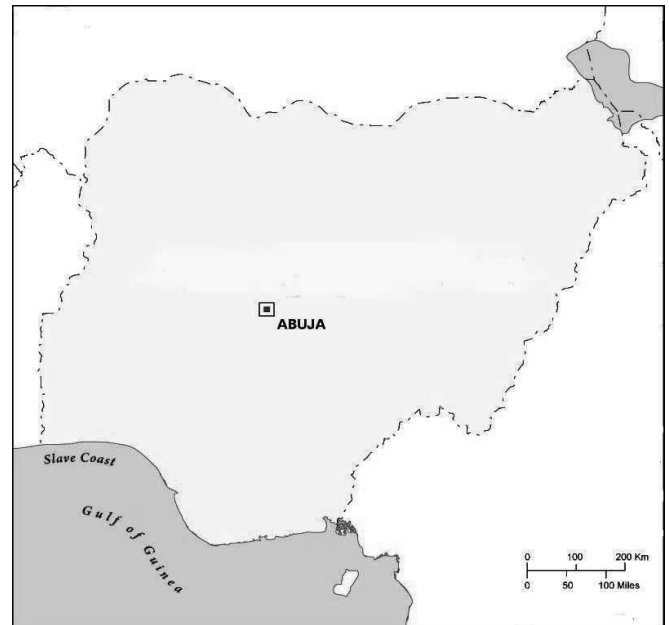
SUBIECTUL V

12 puncte

Desenele de mai jos reprezintă conturul a două teritorii de stat. Precizați, pentru fiecare din cele două teritorii de stat: denumirea oficială, poziția geografică, forma, vecinii, tipul de frontieră, forma de guvernământ, orașul cu funcția de capitală de stat, forma de relief dominantă (forme de relief dominante), structura de stat.



a.



b.

prof. Ioan Sas – Liceul Tehnologic “S.N.G.” Mediaș