

## CONCURSUL DE GEOGRAFIE eONG

25.04.2020

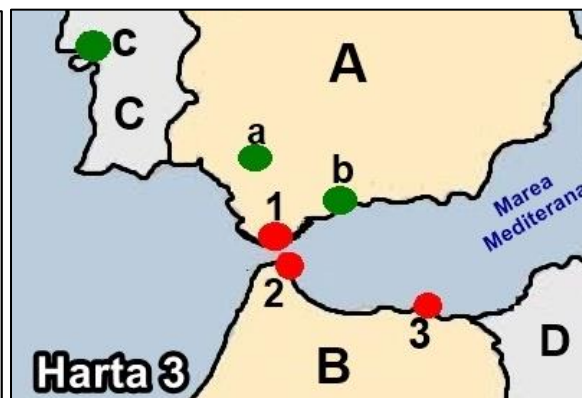
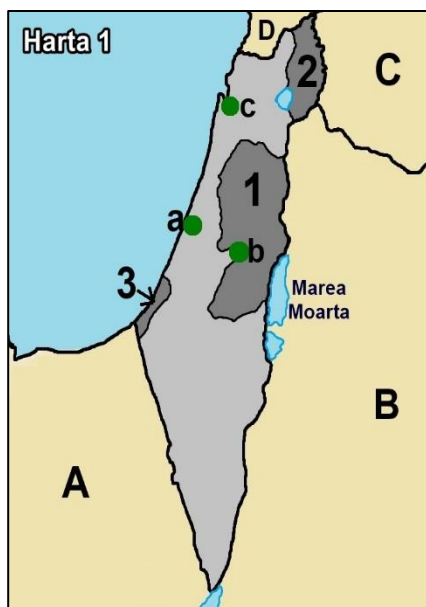
### PROBA TEORETICĂ SCRISĂ

Clasa a X-a

- Toate subiectele sunt obligatorii. Se acordă 10 puncte dîn oficiu.
- Timpul efectiv de lucru este de 3 ore.

#### Subiectul I (30 de puncte)

Analizați hărțile de mai jos și răspundeți următoarelor cerințe:



A. Pentru harta 1, precizați:

- 1) Părțile beligerante în conflict;
- 2) Numele teritoriilor revendicate de părțile beligerante marcate cu 1, 2, 3;
- 3) Numele statelor marcate B și D, precum și capitala acestora;
- 4) Numele orașelor marcate cu a, b, c;

B. Pentru harta 2, precizați:

- 1) Numele teritoriului disputat reprezentat pe hartă;
- 2) Tipul de conflict și o măsură de eliminare a conflictului;
- 3) Numele teritoriului marcat cu a;
- 4) Numele statelor marcate cu 1, 2, 3;
- 5) Religia dominantă dîn statele marcate cu 1, 2, 3;
- 6) 2 consecințe ale conflictului identificat la punctul 2;

C. Pentru harta 3, precizați:

- 1) Numele teritoriilor dependente marcate cu 1, 2, 3, precum și statul de care aparțin teritoriile 1 și 3;
- 2) Numele orașelor marcate cu a, b, c;
- 3) Religia dominantă din statele marcate cu C și D;
- 4) O resursă naturală dîn statul marcat cu B;
- 5) Un avantaj și un dezavantaj al valorificării resursei identificată la punctul 5;
- 6) O unitate de relief din România unde poate fi valorificată resursa identificată la punctul 5;

### Subiectul II (22 de puncte)

Analizați harta și imaginile de mai jos. Cunoșcând că orașul marcat cu 10 pe harta de mai jos are coordonatele  $19^{\circ} 25' 42.49''$  N,  $99^{\circ} 07' 39.58''$  V, răspundeți cerințelor:



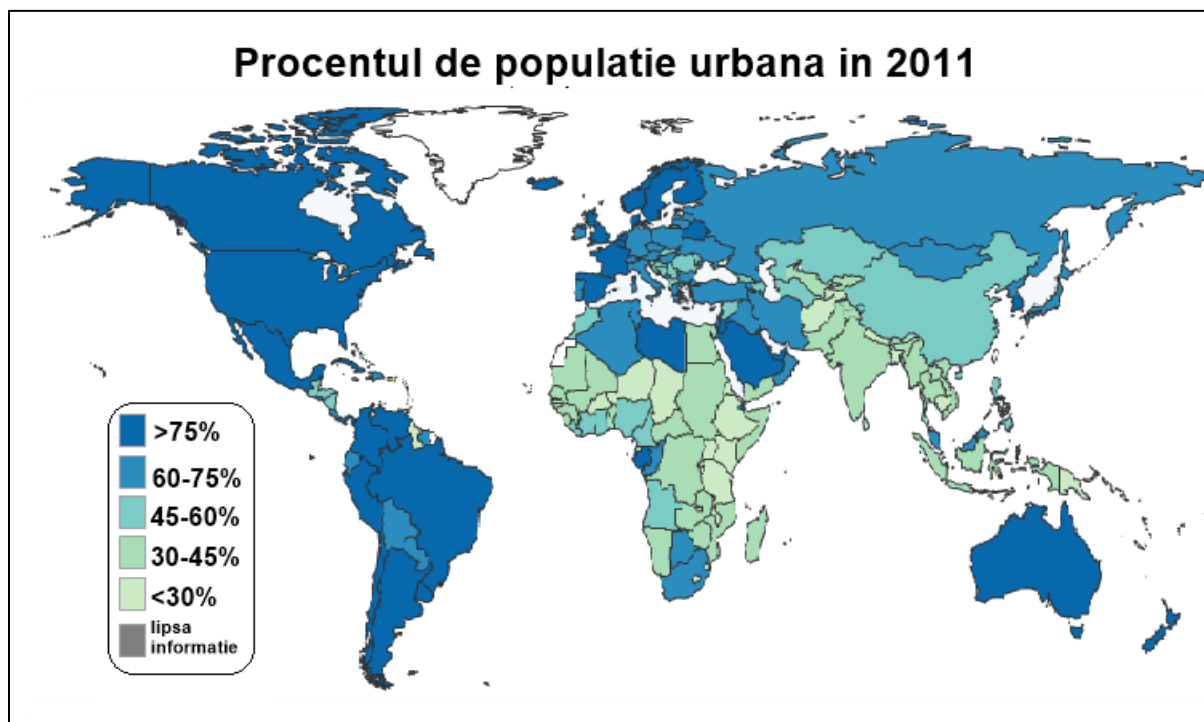
- 1) Precizați numele a 2 megalopolisuri identificate pe hartă;
- 2) Precizați numele orașelor marcate pe harta cu: 2, 7, 8, 11;
- 3) Precizați numele unui centru universitar/oraș cu funcție universitară situat pe coasta estică a Statelor Unite ale Americii, între orașele marcate pe hartă cu cifrele 5 și 7;
- 4) Precizați numele capitalelor marcate pe harta cu: 13, 14, 15, 16, 17, respectiv statul în care se află acestea, dar și o funcție comună a acestor orașe;
- 5) Precizați numele Țărilor marcate pe hartă cu A și B, precum și statele de care aparțin;
- 6) Precizați familia lingvistică din care face parte statul a cărei capitală este marcată pe hartă cu 15;
- 7) Precizați limba oficială a statului în care se află orașul marcat cu 11;
- 8) Precizați numărul cu care este marcat pe hartă orașul din figura 1;
- 9) Precizați numărul cu care este marcat pe hartă orașul din figura 2;
- 10) Precizați numărul cu care este marcat pe hartă orașul din figura 3;
- 11) Precizați numele unui obiectiv turistic din orașul reprezentat în figura 4;

### Subiectul III (13 puncte)

Harta de mai jos prezintă **procentul de populație în mediul urban în 2011**. Răspundeți cerințelor de mai jos:

- 1) Precizați 2 state din zona Magrebului cu valori mai mari de 60%;
- 2) Precizați numele unui ansamblu economic/organizație economică/bloc regional în care absolut toate statele membre au valori ale populației urbane mai mari de 75% și precizați o caracteristică a acestui ansamblu/organizație;
- 3) Precizați 2 cauze care determină nivelul scăzut al populației urbane în centrul Africii;

- 4) Precizați 2 factori care determină valori ridicate ale populației urbane în Europa Nordică și Europa Vestică;
- 5) Precizați 3 probleme cu care se confruntă orașele contemporane;
- 6) Precizați 3 măsuri pentru creșterea calității vieții urbane;



#### **Subiectul IV (10 puncte)**

Analizați cele 2 coloane și realizați asocierea corectă dintre termenii din prima coloană, respectiv textele geografice din a doua coloană:

**1) armătura urbană**

**A)** Orașe de cazare a forței de munca, dar și orașe de preluare a unor unități economice din metropolă.

**2) revărsarea urbană**

**B)** Creșterea rapidă a populației care determină și extinderea teritorială. Totodată, se conturează și suburbanizarea, modificându-se morfologia orașelor prin apariția cartierelor periferice.

**3) congestionarea urbană**

**C)** Componentele rețelei care traversează spațiul urban (distribuția apei, a electricității, a căilor de comunicație/transport).

**4) Orașe-„satelit”**

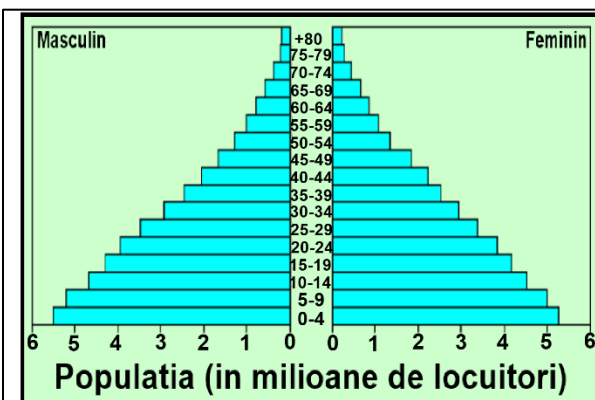

**D)** Acoperirea cu construcții a tuturor spațiilor disponibile.

**5) saturația urbană**

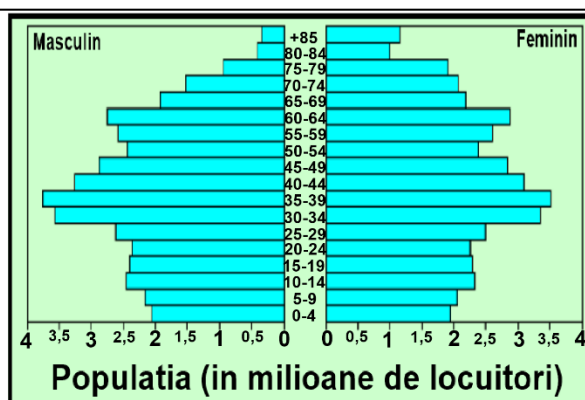
**E)** Gruparea concentrată a familiilor pe verticală cu scopul de a reduce dimensiunile camerelor, dar și de a regla mărimile spațiilor verzi.

**Subiectul V (15 puncte)**

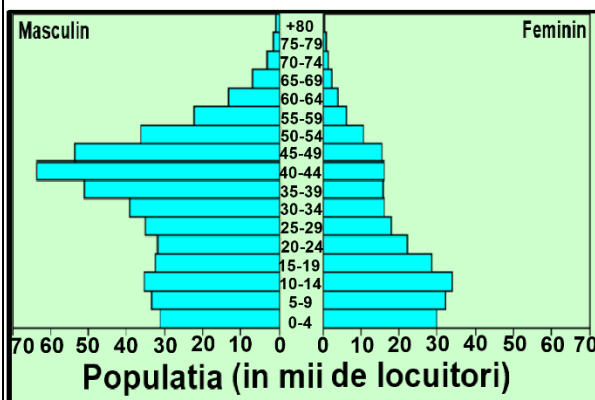
A. Imaginile de mai jos prezintă 4 piramide ale vârstelor pentru 4 state, respectiv 4 mascote ce reprezintă fiecare unul din aceste 4 state. Răspundeți cerințelor următoare:



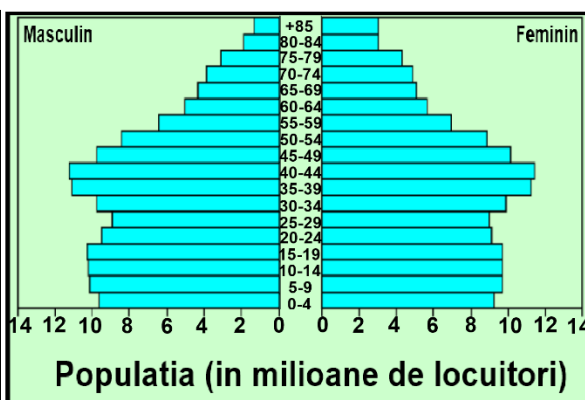
**Figura 1**



**Figura 2**



**Figura 3**



**Figura 4**

Completați tabelul de mai jos:

	Figura	Statul
Mascota 1		
Mascota 2		
Mascota 3		
Mascota 4		

**B. Încercuiți răspunsul corect:**

1) Satul de tip kraal este reprezentat în figura:

a) figura 1    b) figura 2    c) figura 3    d) figura 4



2) Insula Gotland aparține statului:

a) Danemarca    b) Marea Britanie    c) Statele Unite ale Americii    d) Suedia

3) Europort este localizat în:

a) Hamburg    b) Amsterdam    c) Rotterdam    d) Le Havre

4) Un stat ce deține teritorii în Antarctica încă din 1934 este:

a) Franța    b) Brazilia    c) Africa de Sud    d) Argentina

5) Este o centrală mareomotrică:

a) Yorkshire    b) Rance    c) Biharia    d) Kiruna

6) Din punct de vedere morfostructural, Milano este:

a) polinuclear    b) rectangular    c) radiar-concentric    d) semiradiar-concentric

7) C.B.D. semnifică:

a) County Business Department

b) Chicago Business Department

c) County Business District

d) Central Business District