

OLIMPIADA DE GEOGRAFIE
ETAPA LOCALĂ – 16 FEBRUARIE 2013, CLASA a XI - a
PROBA TEORETICĂ SCRISĂ

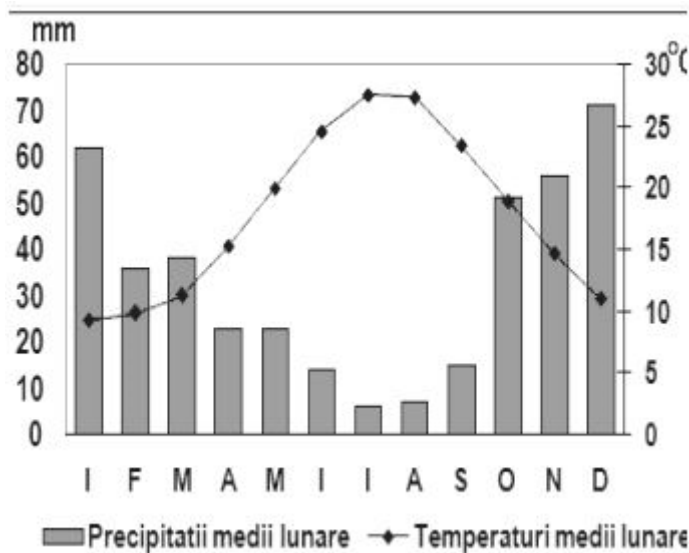
- Toate subiectele sunt obligatorii. Se acordă 10 puncte din oficiu.
- Timpul efectiv de lucru este de 3 ore.

SUBIECTUL I

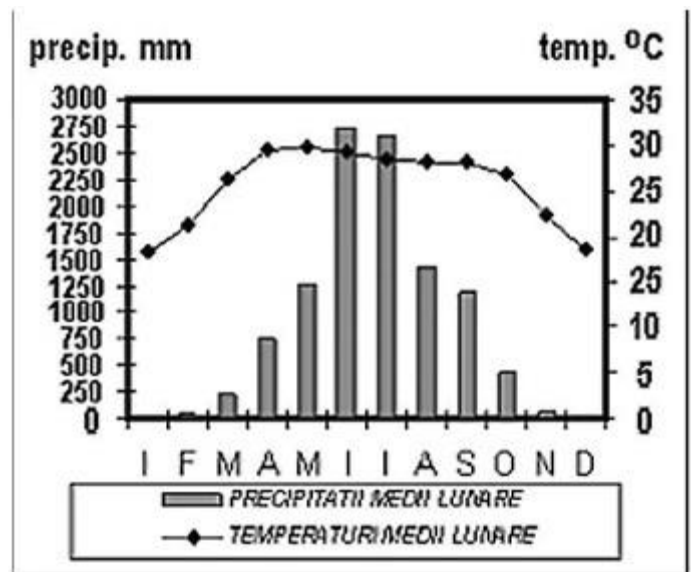
18 puncte

Analizați diagramele climatice marcate cu cifrele 1 și 2. Menționați:

- tipul de mediu reprezentat de fiecare model grafic.
- caracteristicile regimului termic, ale regimului pluviometric și factorii care determină alura parametrilor climatici, pentru mediul reprezentat de modelul grafic 2.
- calitatea mediului geografic reprezentat de modelul grafic 1.
- menționați câte două regiuni geografice pentru fiecare tip de mediu
- impactul antropic în fiecare din cele două medii geografice.



Grafic nr. 1



Grafic nr. 2

prof. Diana Elena Popițiu - Liceul Tehnologic "Henri Coandă" Sibiu

SUBIECTUL II

15 puncte

Definiți, pe scurt, următoarele 5 noțiuni: **areal, geosistem, ecosistem, geosferă, peisaj geografic.**

prof. Lucian Pinca - Școala Gimnazială nr.4 Sibiu

SUBIECTUL III

14 puncte

Sahel-ul este cunoscut pentru cea mai dinamică manifestare a fenomenului de deșertificare.

Precizați cauzele principale ale deșertificării (cel puțin două din fiecare categorie) și măsurile ce se pot lua pe termen scurt, mediu și lung pentru diminuarea acestui fenomen (câte una din fiecare).

prof. Horațiu Rusu - Liceul Tehnologic Cisnădie

SUBIECTUL IV

18 puncte

Priviți imaginea de dreapta - jos și răspundeți la cerințele următoare:

- Precizați denumirea hazardului natural
- Numiți 3 cauze ale producerii acestui tip de hazard
- Numiți 3 efecte negative produse de acest hazard
- Numiți două unități de relief din România afectate de acest tip de hazard



Sursa: Agenția Reuters

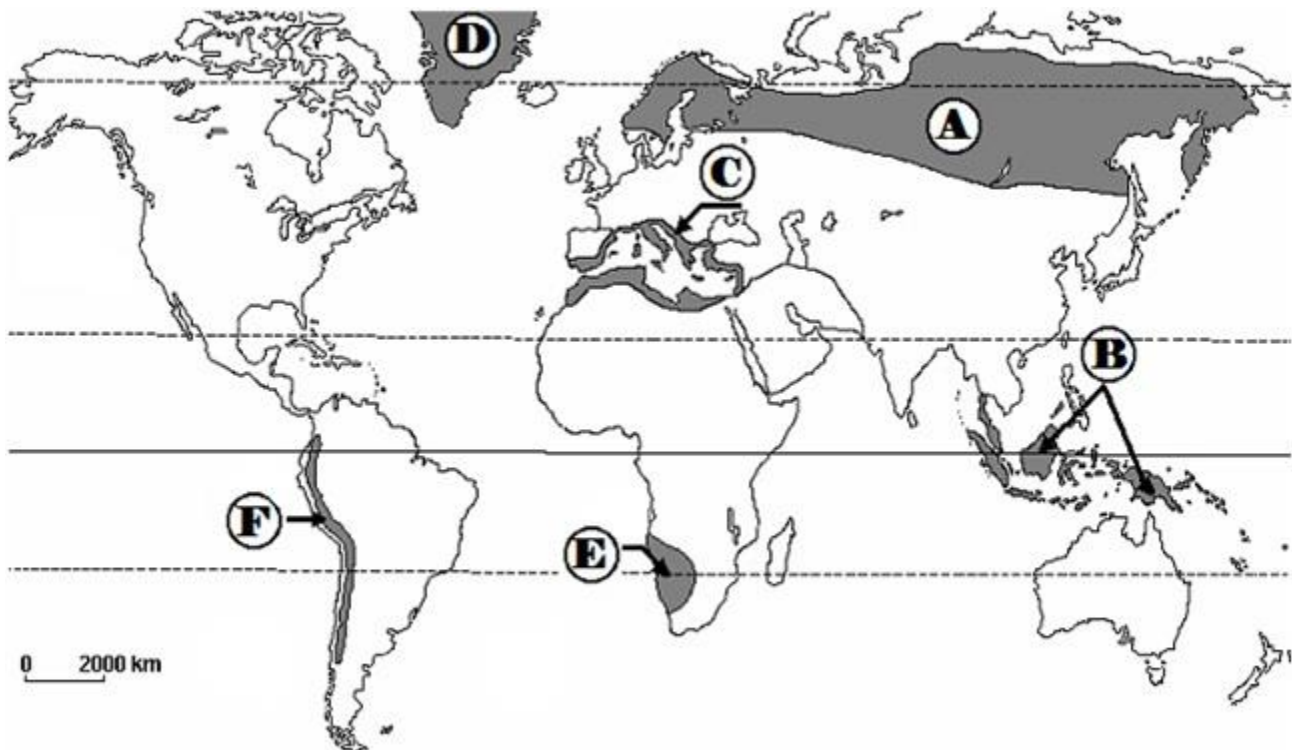
prof. Lucian Pinca - Școala Gimnazială nr.4 Sibiu

SUBIECTUL V

25 puncte

Harta de mai jos conține anumite regiuni puse în evidență prin utilizarea hașurilor, fiind notate cu litere de la A la F. Răspundeți la următoarele cerințe:

- scrieți denumirile tipurilor de medii marcate cu literele A, B, C, D, E și F;
- caracterizați mediul geografic marcat pe hartă cu litera B, precizând: caracteristicile climatice, vegetația, fauna, solurile, impactul antropoc asupra mediului;
- comparați mediile marcate pe hartă cu literele D și F, precizând deosebirile privitoare la: poziția geografică, caracteristicile climatice, soluri.



prof. Horațiu Rusu - Liceul Tehnologic Cisnădie