



## CONCURSUL ȘCOLAR DE GEOGRAFIE, ETAPA LOCALĂ, 31.01.2018

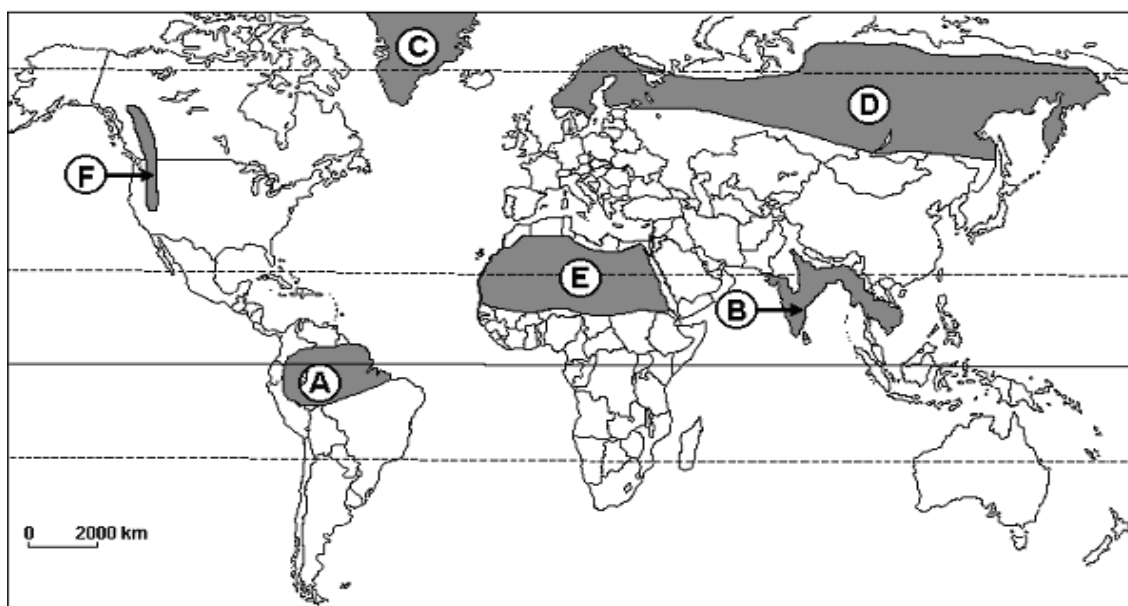
### CLASA A XI-A

- Toate subiectele sunt obligatorii. Se acordă 10 puncte din oficiu.
- Timpul efectiv de lucru este de 3 ore.

#### SUBIECTUL I.

22 de puncte

- a) Scrieți, pe foaia de concurs, denumirile tipurilor de medii geografice marcate pe hartă cu litere de la **A** la **F**;
- b) Caracterizați mediul geografic marcat, pe harta de mai jos, cu litera **B**, precizând:
- repartiția geografică;
  - caracteristicile climatice;
  - vegetația, fauna și solurile;
  - impactul antropic asupra mediului;
- c) Identificați **două deosebiri** și **două asemănări** între particularitățile biopedogeografice ale mediilor geografice marcate pe hartă cu literele D și F.



#### SUBIECTUL II.

20 de puncte

Explicați:

- a) Rolul pe care îl are lumina ca factor geocologic în viața plantelor și animalelor;
- b) Frecvența ridicată a inundațiilor în Asia de Sud-Est și impactul acestora asupra mediului și componentelor antropice.

#### SUBIECTUL III.

8 puncte


Identificați tipurile de medii corespunzătoare imaginilor de mai jos și exemplificați câte o regiune unde se întâlnesc aceste tipuri de medii.



a.



b.



c.



d.

#### SUBIECTUL IV.

**20 de puncte**

Deșertificarea este una dintre problemele actuale ale lumii contemporane.

Precizați:

- Patru zone de pe Glob cu risc foarte mare de deșertificare;
- Două cauze majore ale deșertificării și șase consecințe ale acestui proces;
- Trei moduri de utilizare a suprafețelor de teren afectate de procesul de deșertificare.

#### SUBIECTUL V.

**20 de puncte**

Analizând imaginile de mai jos, care fac referire la hazarduri naturale și antropice precizați:



Imaginea 1.



Imaginea 2.




Imaginea 3.



Imaginea 4.



Imaginea 5.



Imaginea 6.

- Numele hazardelor notate cu cifre de la 1 la 6;
- Selectați din imagini două hazarduri climatice și unul antropic;
- Selectați din imagini un hazard social și dați alte două tipuri de exemple de acest fel;
- Precizați pe baza informațiilor cunoscute un hazard social recent;
- Precizați în ce regiuni se poate produce hazardul din imaginea 3;
- Menționați trei măsuri de precauție pentru hazardul prezentat în imaginea 6;

**Din oficiu 10 puncte  
Total general: 100 puncte**