

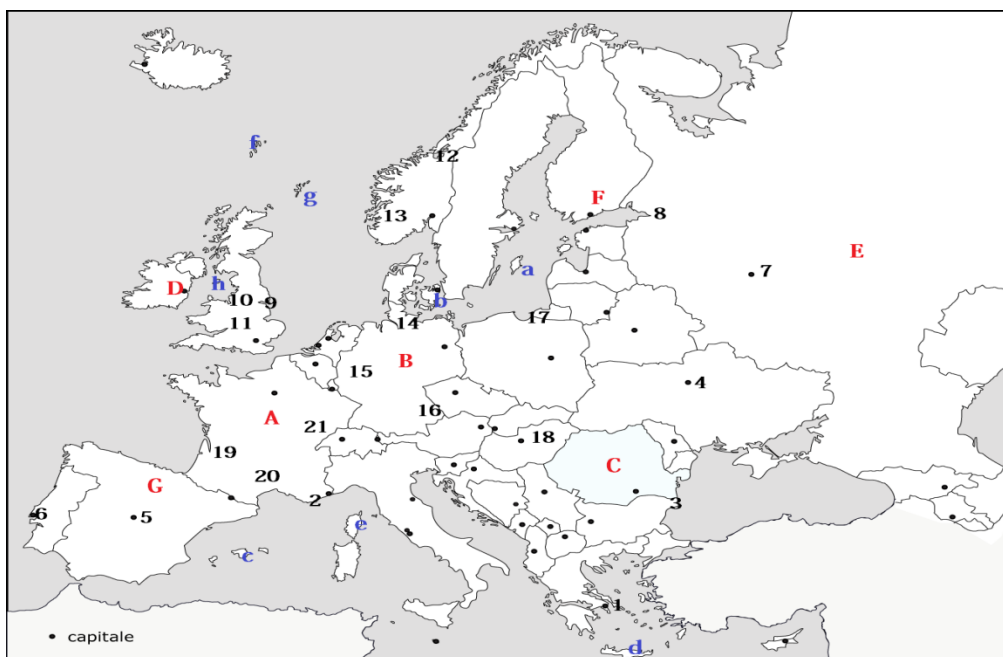
eOLIMPIADA NAȚIONALĂ DE
GEOGRAFIE - ETAPA
NAȚIONALĂ
25 aprilie 2020

PROBA TEORETICĂ SCRISĂ
CLASA A XII-A

- Toate subiectele sunt obligatorii. Se acordă 10 puncte din oficiu.
- Timpul de lucru efectiv este de 3 ore.

Subiectul I (43 puncte)

A. Imaginea de mai jos reprezintă harta politică a Europei. Pe baza ei, răspundeți la următoarele cerințe:



1. Precizați **epoca** în care s-au format următoarele orașe, precum și **denumirea** lor veche: **2,3,7,15**.
2. Menționați numele insulelor, marcate pe hartă, de la **a** la **g**.
3. Precizați țara de care aparține insula **e**, dar și insula **h**.
4. Precizați numărul orașului marcat pe hartă care este supranumit **Veneția nordică**, precum și numele golfului la care are ieșire.
5. Scrieți numele celui mai mare aeroport din orașul, marcat pe hartă, cu numărul **7**.

6. Precizați numele unui râu din statul **D**.

7. Scrieți denumirea orașelor marcate pe hartă cu: **19,20,21**, precum și râurile care le străbat.

8. Scrieți numărul orașului care are funcție portuară și are ieșire la Marea Baltică.

9. Explicați conceptul de **Banana Albastră a Europei**.

10. Scrieți denumirea unui lac din țările marcate pe hartă cu **A ,F ,E** .

11. Scrieți numele unui oraș atât din statul **B** cât și din statul **C** care s-a dezvoltat în perioada comunistă drept centru industrial.

12. Scrieți trei limbi vorbite în statul, marcat pe hartă, cu **G**.

B.Referitor la sistemul de transporturi din Europa, rezolvați următoarele cerințe:

1. Mentionați **3** factori care determină o circulație mai intensă pe fluviul Rin față de oricare alt fluviu european.

2. Explicați densitatea mai ridicată a căilor de comunicație în Europa Vestică față de Europa Estică.

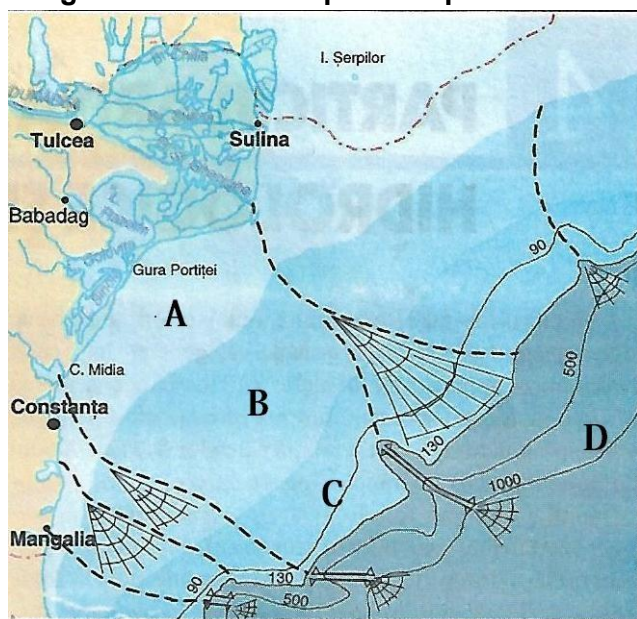
3. Numiți cate un tren de mare viteză din statele: Germania, Franța și Spania.

Alina - Rozalia Popescu

Răspuns:

Subiectul II (17 puncte)

Imaginea următoare reprezintă platforma Mării Negre.



1. Precizați modul de formare a platformei continentale a Mării Negre și explicați procesele care au stat la baza existenței unor văi submarine.
2. Precizați numele fâșiilor marcate cu literele A, B, C și câte o caracteristică pentru fiecare.
3. Numiți componentele mediului acvatic.
4. Explicați termenul de *euxinism*.
5. Precizați adâncimea maximă până la care coboară platforma continentală.
6. Precizați trei argumente prin care să susțineți importanța economică a platformei continentale a Mării Negre.
7. Precizați un inconvenient al existenței adâncimilor reduse ale platformei continentale, până aproape de tarm, și un tip de amenajare antropică necesară micșorării acestui inconvenient.

Alina - Rozalia Popescu

Răspuns:

Subiectul III (8 puncte)

Pe baza textului de mai jos, răspundeți la următoarele cerințe:

Acest oraș datează din secolul al VII-lea, fiind capitala Bavariei. Fără dar și poate, este al 3-lea oraș ca număr de locuitori din statul din care face parte.

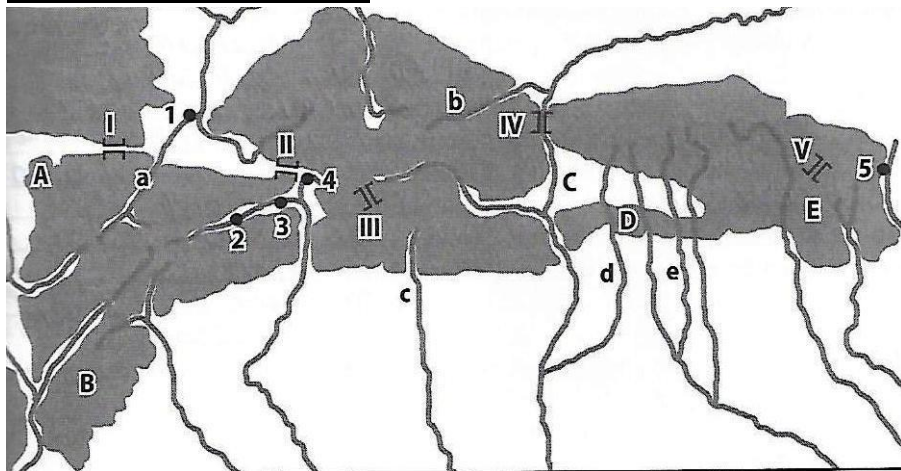


1. Numiți orașul redat în text, precum și statul din care face parte.
2. Precizați unitatea de relief în care se regăsește precum și râul care îl traversează.
3. Numiți două obiective turistice din acest oraș, precum și două funcții.
4. Menționați numele celor mai mari două orașe din statul menționat la punctul 1.

Alina - Rozalia Popescu

Răspuns:

Subiectul IV (12 puncte)



A.

1. Numiți unitățile/subunitățile de relief marcate pe hartă de la A la E.

2. Numiți orașele marcate pe hartă cu cifre de la 1 la 5.
3. Numiți râurile marcate pe hartă cu a,c,d,e.
4. Numiți pasurile/trecătorile marcate pe hartă cu cifre romane : I,II,IV,V.

B. Completați următoarele afirmații cu răspunsurile corecte:

1. Peștera Cioclovina este localizată în Munții.....
2. Circul și lacul glaciar Doamnele este localizat în Muntii.....
3. Pestera Dumbravicioara s-a format în Muntii.....

Alina - Rozalia Popescu

Răspuns:

SUBIECTUL V (10 puncte)

Se dau următoarele denumiri de unități de relief: Muntii Eifel, Muntii Hautes Fagnes, Muntii Hunsrück, Muntii Toledo, Muntele Parnassos, Muntii Kopaonik, Muntii Pelion, Podisul Lublin, Podisul Malopolska, Muntii Fatra Mica, Muntii Jeseník, Alpii Dolomitiți, Campia Niprului, Campia Marii Negre, Campia Kubanului, Muntii Stara Planina, Podisul Ardeni, Muntii Cevenni, Sierra de Gata, Muntii Harz. Precizați pentru fiecare țară în care sunt localizate.

Mălina Pâslaru

Răspuns: